

名取市歴史民俗資料館

みんなで学ぼう!!

なとりの歴史

学習ノート



熊野本宮社



雷神山古墳



熊野神社 (熊野新宮社)



熊野那智神社

学校名

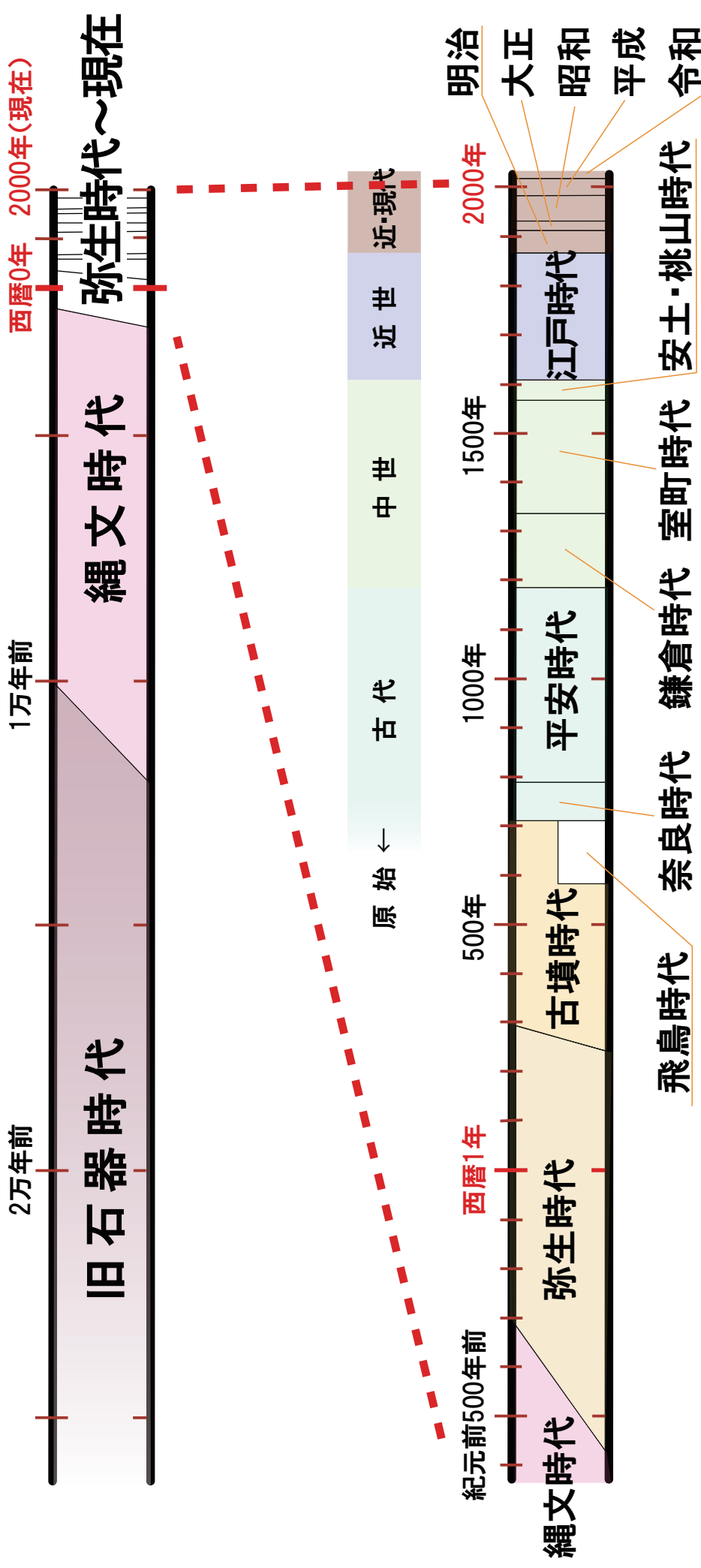
学年

年

組

氏名

名取市の歴史：旧石器時代の終わり頃～現在まで、約20,000年の歴史があります。



時代の流れ

歴史の流れを大きく区切り、時代で表しています。

考古の展示室

考古資料から見た名取

考古資料とは・・・

土地に残された遺跡や土器・石器などをいいます。

Q1 名取市内にはどのくらい遺跡がありますか？

A ヶ所

旧石器
時代

氷河時代を生きる人々

Q2 名取市最古の遺跡、野田山遺跡の だ や ま い せ きは今から何年前の遺跡ですか？

A 約 年前

縄文時代
前期

森と海にくらす縄文の人々

Q3 泉遺跡いずみいせきから見つかった縄文時代の
竪穴住居跡たてあなじゅうきよあと（家のあと）は何軒で
すか？

A 軒

縄文時代

貝塚と縄文人の生活

Q4 名取市内の貝塚名かいづかを一つ
書きましょう。

A 貝塚

弥生時代

稲作の広がり和平野への進出

Q5 原遺跡はら いせきから見つかった稲穂いなほを摘む
道具の名前は何ですか？

A

古墳時代

東北最大の前方後円墳

Q6

上から見える^{らいじんやま こ ふん}雷神山古墳の形を書きましょう。

古墳時代

古墳づくりは大変

Q7

^{らいじんやま こ ふん つく}雷神山古墳を造るのに、当時はどのくらいの期間がかかったようですか？

A

古墳時代

経ノ塚古墳の埴輪

海岸近くの古墳群

Q8

^{きょうのづか こ ふん}経ノ塚古墳からはどんな^{はにわ}埴輪が見つかっていますか？

A

奈良・平安時代

律令体制と古代の名取

Q9

展示している^{しみずいせき}清水遺跡から見つかった^{ほくしょどき}墨書土器には何という文字が書かれていますか？

A

奈良・平安時代

「集団墓地」横穴墓の出現

Q10

^{くまの どうよこあな ほぐん}熊野堂横穴墓群から見つかった^{すずくしろ うでわ}鈴釦（腕輪）をスケッチしましょう。

歴史・民俗の展示室

中世の名取と熊野三社

中世

紀州熊野三山と熊野信仰

Q11

名取につくられた^{くまのさんしゃ}熊野三社を書きましょう。

A

中世

名取の熊野三社と名取老女

名取老女伝説の内容

Q12

^{やまぶし}山伏が^{なとりろうじよ}名取老女に^{なぎ}榎(なぎ)の葉をもってきました。その葉にあった虫くいのような歌を書きましょう。

A

中世

新宮寺と文殊堂の文化財

Q13

^{しんぐうじ}新宮寺には書き写された^{きょう}お経が3,000巻以上伝わっています。このお経は何とよばれていますか？

A

中世

名取熊野三社の牛王宝印

Q14

^{くまのさんしゃ}熊野三社ではお守りとしてカラス文字で書かれた^{ふだ}お札を配っていました。そのカラスは^{やたがらす}八咫鳥と呼ばれていますが、普通のカラスの^{すがた}姿とどこが違いますか？

A

近世

奥州街道と増田宿

Q15

江戸（今の東京）への幹線道として
整備された「奥州街道」の道幅は
約何 m でしたか？

A

約 m

近世

「山」のくらし 旧中沢家住宅（国指定）

Q16

展示している釜神様は館腰地区に
あった家の台所にかざられていた
ものです。
どんな神様を祀ったものですか？

A

の神様

近世

村や神社に伝わる民俗芸能

Q17

みなさんの地区にはどんな民俗芸能
が伝えられていますか？

A

近世～
現代

閑上土手の松並（市登録）

Q18

閑上土手の松並を地元の漁船が
灯台のかわりに目印にしたこと
から、松のことを何と呼んでい
ましたか？

A

松

近世～
現代

昭和三陸地震の震嘯記念碑と津波標柱（市登録）

Q19

昭和三陸地震の時に立てられた津波標柱には、どんな注意
をよびかける標語が書かれていますか？

A

名取のくらしの道具

米作りや畑作の道具

Q20 次の道具はどんな作業に使われたものですか？
三つの中から選びましょう。

A

- ① 稲を刈る
- ② 田畑を耕す
- ③ 水をかける



ひらぐわ
平鋤

A

- ① 稲を刈る
- ② 田畑を耕す
- ③ ワラをたたいて
やわらかくする



つちぼう
槌棒

養蚕の道具

Q21

次の道具は蚕のまゆから糸をとる養蚕の道具です。
どんな作業に使うか、説明文を完成させましょう。

くわき ほうちょう
桑切り包丁



A

蚕にあたえる()の葉をきざむ包丁

ざく き
座繰り機



A

蚕のまゆを煮
て、ほぐれて
きた糸口から
糸を()
道具

まちのくらし 商いの道具

Q22


次の道具はお米やお酒などの重さや
量をはかる道具です。何とよばれて
いるでしょう？



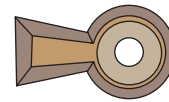
A



A



MEMO



資料館で学習した感想やこれからもっと知りたいことを書いてね。

感想

名取のことでもっと知りたいこと
